



LUNDI					MARDI			MERCREDI					JEUDI					VENDREDI					SAMEDI					DIMANCHE																													
1	2	3	4	5	6	7	8	9	10	11	12	13	14	15	16	17	18	19	20	21	22	23	24	25	26	27	28	29	30	31																											
JANVIER					FEVRIER			MARS					AVRIL					MAI					JUIN					JUILLET					AOÛT					SEPTEMBRE					OCTOBRE					NOVEMBRE					DECEMBRE				



Objectif : savoir dénombrer une collection contenant jusqu'à 6 éléments.

Consigne : Compte le nombre de loups dessinés à gauche et écris-le dans la colonne de droite.

1	2	3	4	5	6
---	---	---	---	---	---

LUNDI

MARDI

MERCREDI


JEUDI

VENDREDI

SAMEDI

DIMANCHE

Prénom : _____



Objectif : savoir dénombrer une collection contenant jusqu'à 3 éléments.

Consigne : Compte le nombre de loups dessinés à gauche et colle-le dans la colonne de droite. Essaie ensuite de l'écrire seul.

1

2

3

1

2

3

1

2

3