









Prénom :

Date :

Objectif numération : associer une quantité à son écriture chiffrée.

Consignes : relie chaque groupe de mangues au nombre correspondant.



6

7

8

9

10

11

12

13

Prénom : _____







Date : _____



Objectif numération : associer une quantité à son écriture chiffrée.

Consignes : Compte les animaux puis remplis le tableau



Prénom : _____







Date : _____



Objectif numération : associer une quantité à son écriture chiffrée.

Consignes : Compte les animaux puis remplis le tableau



Prénom : _____

Date : _____



Objectif numération : Chercher les compléments à 10

Consignes : dessine des mangues pour compléter les collections de 10.



Illustration of a red monkey on the left and the number 10 on the right. In the center, there are 7 mangoes scattered across the space.

The number 10 on the left and an illustration of a yellow monkey on the right. In the center, there are 8 mangoes arranged in two columns of four.

Illustration of an orange monkey on the left and the number 10 on the right. In the center, there are 4 mangoes scattered across the space.

The number 10 on the left and an illustration of a red monkey on the right. In the center, there are 6 mangoes arranged in two columns of three.

Illustration of a yellow monkey on the left and the number 10 on the right. In the center, there are 6 mangoes scattered across the space.

The number 10 on the left and an illustration of an orange monkey on the right. In the center, there are 3 mangoes scattered across the space.